

# ÉCHOS D'ESCALE

LA MALLE À SOUVENIRS DE TARA

LIEU—  
DE L'ESCALE

LORIENT

TYPE—  
AGE

ACTIVITÉS

8-12 ANS

L'OBJET—  
DE L'ESCALE

PORT

LA PROBLÉMATIQUE—  
DE L'ESCALE

Quelle est l'Histoire et l'évolution  
du développement maritime  
d'une ville comme Lorient ?

LES THÉMATIQUES—  
DE L'ESCALE



SOCIÉTÉ  
CULTURE



ÉCONOMIE

MOTS—  
CLÉS

TARA - HISTOIRE - COMPAGNIE DES INDES - PORTS - SE DÉPLACER

Fondation  
**taraocéan**  
explorer et partager

[fondationtaraocean.org](http://fondationtaraocean.org)



## QUIZZ

Dans la liste ci-dessous coche les propositions avec lesquelles tu es d'accord :

- Lorient est le port d'attache du bateau Tara.
- Le bateau TARA est un monocoque.
- Le développement de la ville de Lorient est très ancien et remonte au moyen-âge.
- La compagnie des indes permettait des échanges maritimes avec l'Asie et développait l'économie mondiale.
- Pendant la révolution industrielle, Lorient devient un grand port de construction de bateaux militaires
- La ville de Lorient a été complètement détruite lors de la première mondiale.
- A Lorient, on trouve surtout un port de commerce qui assure le transport des marchandises.
- Un port à sec permet de stationner les bateaux à terre.
- Une voiture électrique émet plus de carbone et pollue plus qu'un scooter.

## ACTIVITE 1 : Histoire de la ville de Lorient

### Document 1 : Lorient, port d'attache de Tara



Source vidéo : <https://www.youtube.com/watch?v=9-jQDSMKFVk>

## Document 2 : Aux origines, une ville-port nommée L'Orient

### 1666- 1770 : Lorient, la ville de la Compagnie des Indes

L'histoire de Lorient est toute récente. En 1664, le **Roi Louis XIV** demande à un de ses ministres, **Colbert**, de créer la **Compagnie des Indes** pour développer les échanges commerciaux avec l'Asie. C'est à Port-Louis (le port du roi) que la direction et les entrepôts de la Compagnie s'installent. Le **chantier naval**, pour construire les bateaux sera créé **en 1666** en face de Port-Louis au bord du Scorff. Le premier navire à sortir du chantier, **Le Soleil d'Orient**, donnera le nom de la future ville : **Lorient**.

En 1690, la **Marine Royale** implante un port militaire à Lorient.

En 1770, le commerce avec les Indes se poursuit, mais le Roi rachète les chantiers navals et Lorient devient alors **un arsenal royal** (un arsenal est un lieu de construction et d'entretien de navires de guerre).

### 1770-1914 : Lorient, la ville de l'arsenal

Le XIX<sup>ème</sup> siècle est le siècle des innovations et des révolutions technologiques (machine à vapeur, électricité...). Lorient devient **un grand port de construction de bateaux militaires** (des cuirassés) et une ville de plus de 50 000 habitants.

### 1914-1939 : Lorient, la ville-portuaire

En ce début de XX<sup>ème</sup> siècle, Lorient reste un port militaire, mais développe **un port de commerce** à Kergroise (1921) et **un port de pêche** extrêmement moderne à Keroman (1927).

### 1939-1945 : Lorient, ville détruite au cœur de la bataille de l'Atlantique

Pendant la **seconde Guerre mondiale**, Lorient, occupée par les Allemands se trouve au cœur de la bataille de l'Atlantique. Les Allemands font construire **une base des sous-marins** pour accueillir et réparer leurs sous-marins.

En **1943**, la ville est **détruite** par les armées alliées de la France à plus de 90%.

### 1945-1992 : Lorient, ville reconstruite et ports dynamiques

Après la deuxième Guerre mondiale, Lorient et ses ports doivent être reconstruits. **L'arsenal**, le port de **commerce** de Kergroise et le port de **pêche** de Keroman bénéficient d'une économie dynamique : c'est la période « des 30 glorieuses » et de Lorient la « ville aux 5 ports ».

### 1993-2022 : Lorient, ville portuaire en mutation

Les années 90 plongent Lorient et ses ports dans une crise économique. Mais comme beaucoup de villes portuaires, Lorient trouve de nouvelles solutions pour se développer : l'arsenal devient **Naval Group**, le port de pêche est devenu le premier port de pêche de France, le port de commerce est modernisé et la Base des sous-marins abandonnée par la Marine devient **un pôle de la course au large** mondialement connu.

Source modifiée : <https://www.lorientportcenter.com/carnet-de-bord/aux-origines-une-ville-port-nommee-lorient>




**Document 3 : Commercer avec les Indes**

Entre tous les commerces qui se font dans toutes les parties du monde, il n'y en a point de plus riche ni de plus considérable que celui des Indes Orientales. [...] C'est de là qu'on tire l'or et les pierreries ; c'est de là que viennent les marchandises si renommées et d'un débit si assuré, la soie, la cannelle, le poivre, le gingembre, la muscade, les toiles de coton, la ouate, la porcelaine, les bois qui servent à toutes les teintures, l'ivoire, l'encens, et mille autres commodités, auxquelles les hommes étant accoutumés, il est impossible qu'ils s'en passent. Pourquoi faudrait-il que les Portugais, les Hollandais, les Anglais, les Danois, allassent tous les jours dans les Indes orientales, y possédassent des magasins et des forteresses, et que les Français n'y eussent jamais ni l'un ni l'autre ?

François Charpentier, *Discours d'un fidèle sujet du roi, touchant l'établissement d'une compagnie française pour le commerce des Indes orientales*, 1664.

Source : <https://www.lelivrescolaire.fr/page/6745286>




Source :

[https://fr.wikipedia.org/wiki/Histoire\\_de\\_Lorient#/media/Fichier:Louis\\_Le\\_Breton\\_-\\_Lorient\\_-\\_Int%C3%A9rieur\\_du\\_Port\\_militaire.jpg](https://fr.wikipedia.org/wiki/Histoire_de_Lorient#/media/Fichier:Louis_Le_Breton_-_Lorient_-_Int%C3%A9rieur_du_Port_militaire.jpg)



Source :

[https://fr.wikipedia.org/wiki/Lorient#/media/Fichier:Lorient,\\_ponorkov%C3%BD\\_bunkr\\_Keroman\\_III\\_-\\_panoramio.jpg](https://fr.wikipedia.org/wiki/Lorient#/media/Fichier:Lorient,_ponorkov%C3%BD_bunkr_Keroman_III_-_panoramio.jpg)



Source :  
[https://patrimoine.lorient.bzh/fileadmin/patrimoine.lorient.bzh/ki-osque/Desseins\\_de\\_ville\\_1666\\_-\\_1807.pdf](https://patrimoine.lorient.bzh/fileadmin/patrimoine.lorient.bzh/ki-osque/Desseins_de_ville_1666_-_1807.pdf)

**L'activité 1 en questions**

1 – En quelle année commence l'histoire de Tara et de Lorient ?

-----  
-----  
-----  
-----

2– Quelles sont différences entre ces bateaux : monocoque, imoca, catamaran, trimaran ? Dans quelle catégorie le bateau Tara est-il classé ?

-----  
-----  
-----  
-----

3 – En quoi Lorient est-elle une grande place portuaire sur l'Atlantique ?

-----  
-----  
-----  
-----

4 – A quoi Lorient doit-elle sa naissance et son nom ? Quelle était la fonction de son port ?

-----  
-----

-----  
-----

5 – Quel âge a la ville de Lorient ? Est-ce que c'est une ville ancienne ou récente ?

-----  
-----  
-----  
-----

6 – Qui a écrit le texte du document 3 et en quelle année ?

-----  
-----  
-----  
-----

7 – Quelles étaient les marchandises échangées par la compagnie des indes ?

-----  
-----  
-----  
-----

8 – Observe puis remets dans l'ordre chronologique les 3 images du document 3.

-----  
-----  
-----  
-----



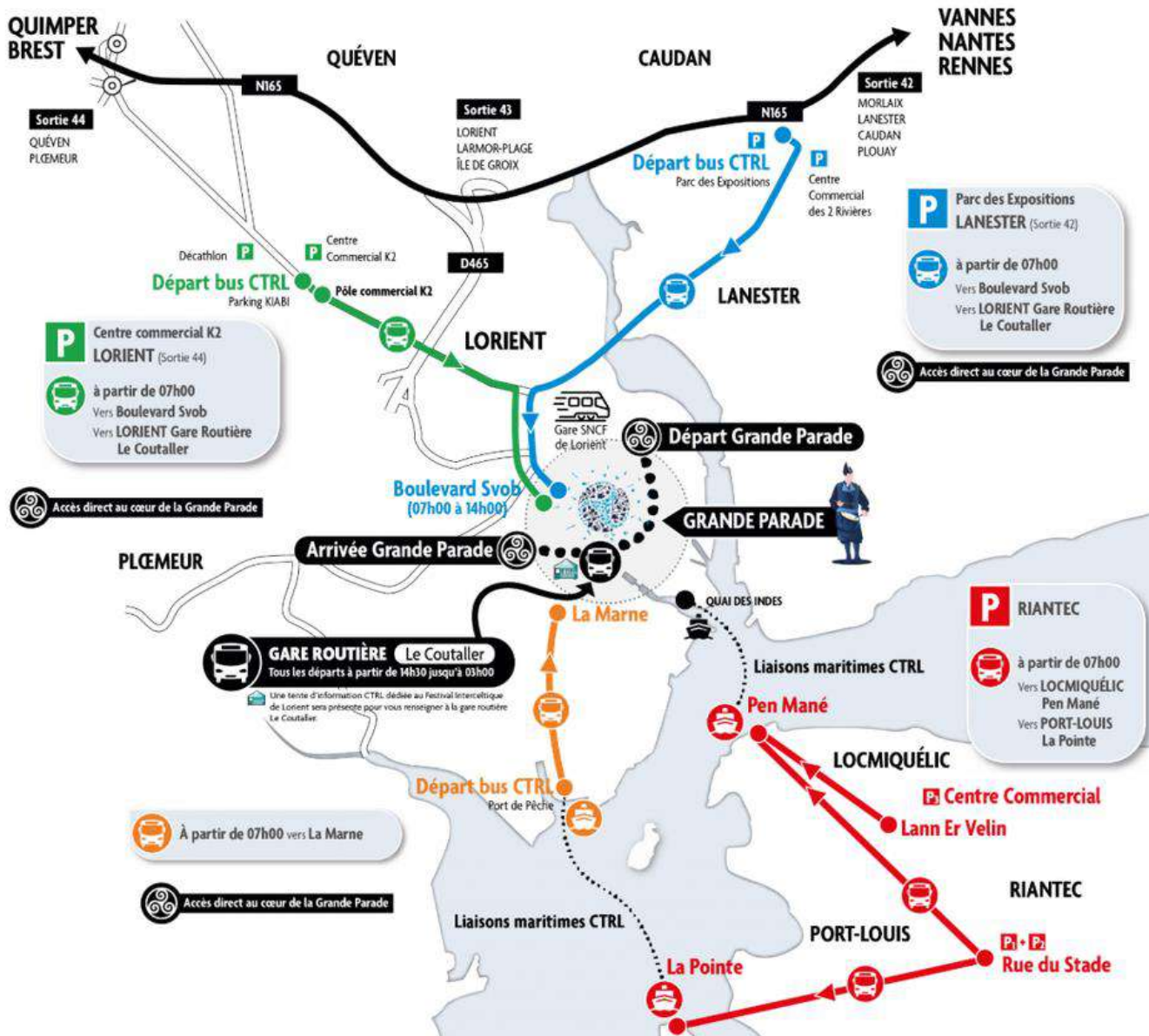
## ACTIVITE 2 : Se déplacer à Lorient

### Document 1 : carte de la rade de Lorient



Source : <https://www.geoportail.gouv.fr/plan/56121/lorient>

Document 2 : les moyens de transports pendant le festival Interceltique.



Source : <https://www.lorientbretagnesudtourisme.fr/fr/immanquables/lorient-festival-interceltique/informations-pratiques/transports-bus-navette-horaires/>

L'activité 2 en questions

1 – Cherche dans un dictionnaire la définition d'une rade puis retrouve sur la carte les principaux fleuves qui alimentent la rade de Lorient.

-----

-----

-----

-----



2- Observe chaque bateau puis écris le nom du port dans lequel le bateau est amarré :

*Remarque : dans un premier temps, vous pouvez laisser les élèves écrire le nom des ports puis ensuite leur donner les différents types de port : port de plaisance, port de commerce, port militaire, port de pêche, port passager, pole de course au large, port à sec.*



Source :  
[https://upload.wikimedia.org/wikipedia/commons/thumb/d/d0/FREMM\\_Bretagne\\_en\\_construction\\_6789.jpg/390px-FREMM\\_Bretagne\\_en\\_construction\\_6789.jpg](https://upload.wikimedia.org/wikipedia/commons/thumb/d/d0/FREMM_Bretagne_en_construction_6789.jpg/390px-FREMM_Bretagne_en_construction_6789.jpg)



Source :  
[https://www.lorientbretagnesudtourisme.fr/fr/fiche/port-de-plaisance-de-lorient-lorient\\_TFOZPORTLORIENT/#dsio-detail--gallery-1](https://www.lorientbretagnesudtourisme.fr/fr/fiche/port-de-plaisance-de-lorient-lorient_TFOZPORTLORIENT/#dsio-detail--gallery-1)



Source :  
[https://static4.mclcm.net/iod/images/v2/103/photo/375102/650x430\\_100\\_300\\_000000x10x0.jpg?ts=20211203102343](https://static4.mclcm.net/iod/images/v2/103/photo/375102/650x430_100_300_000000x10x0.jpg?ts=20211203102343)



Source : <https://agence-api.ouest-france.fr/cache/4/4/a/1/c/44a1c344d134d72b2dd394fc7afc621e14cac36f.png?v=13>



Source : [https://lemarin.ouest-france.fr/sites/default/files/styles/full/public/2018/05/09/bt\\_liaison\\_lorient-groix.jpg?itok=ysea-k1F](https://lemarin.ouest-france.fr/sites/default/files/styles/full/public/2018/05/09/bt_liaison_lorient-groix.jpg?itok=ysea-k1F)



Source : [https://www.sellor.com/sites/default/files/styles/slideshow/public/slideshow/sellor\\_portasec\\_automate2.jpg?itok=erjiQD9S](https://www.sellor.com/sites/default/files/styles/slideshow/public/slideshow/sellor_portasec_automate2.jpg?itok=erjiQD9S)



Source : [https://www.lorient-agglo.bzh/fileadmin/\\_processed\\_/1/7/csm\\_Port\\_de\\_peche\\_Lorient\\_Keroman\\_2\\_56d8dac03.jpg](https://www.lorient-agglo.bzh/fileadmin/_processed_/1/7/csm_Port_de_peche_Lorient_Keroman_2_56d8dac03.jpg)

.....

3 – Utilise un moteur de recherche comme Geoportail ou Google Map pour retrouver les différents ports de Lorient sur une carte de Lorient.

-----  
-----  
-----  
-----

4 – Que signifie le mot « interceltique » ?

-----  
-----  
-----  
-----

5 – Quels sont les différents moyens de déplacements pour se rendre à la grande parade du festival interceltique ?



---

---

---

---

6 – D'après toi, quel mode de transport émet le moins de gaz polluants et le plus de gaz polluants (Dioxyde de carbone) ?

---

---

---

---

7 – Utilise le calculateur de l'Ademe pour vérifier ta réponse en calculant les émissions de carbone pour chaque mode de déplacement pour une distance de 15 km.

<https://agirpourlatransition.ademe.fr/particuliers/bureau/deplacements/calculer-emissions-carbone-trajets>

---

---

---

---

8 – Calcule les émissions de carbone d'un trajet en TGV de 10 km sachant qu'il est de 0,34 kg pour 200 km. Compare ensuite avec les autres modes de transport.

---

---

---

---